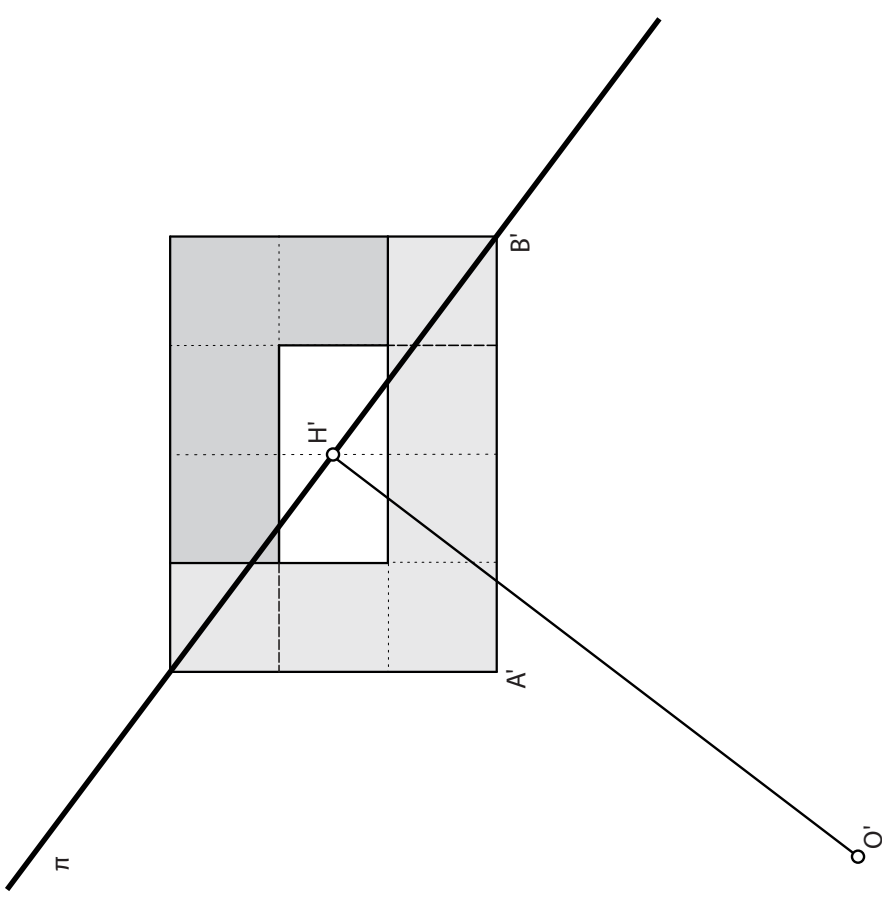
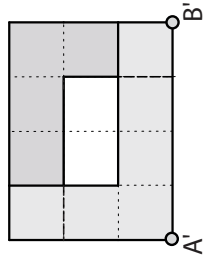
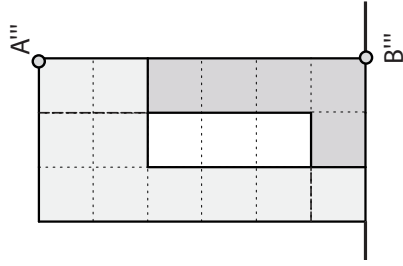
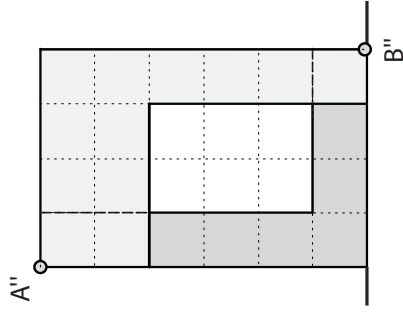
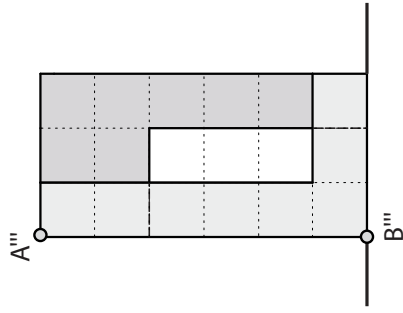


Übungsblatt: Perspektive 01  
CCTV Building



CCTV Building  
Beijing, China  
Arch: Rem Koolhaas, Ole Scheeren

1. Konstruieren Sie das perspektive Bild des in Grund-, Auf- und Kreuzriss gegebenen Objektes. Verwenden Sie dazu das perspektive Bild des Quaders, der das Objekt umgibt (siehe Seite 2). Die Längenverhältnisse 3x4x6 Einheiten sind durch das eingezeichnete Quadrat-Raster gegeben.
2. Zeichnen Sie das Quadrat-Raster und dessen Diagonalen auf dem Objekt ein und bestimmen sie deren Fluchtpunkte.



Name: .....

